

Quickie 2

****29	0
***0**8	1
*1****8	1
****5*7	1
****3*6	1
****85	1
****9*5	0
****6*5	1
2*5	1
****21	1
****6*1	0
****30	1
****500	1
*8***9*	1
48*	1
****32*	1
02*	1
01*	0
***1*0*	0
***95**	1
***64**	1
5*0	1
*8**0**	1
43*	1
*9*0***	1
*08****	0

Sie können die Quickies 2-4 in
der Vorlesung am Mittwoch,
12.12., um 11 Uhr einsehen.

Teilnehmer	26
Bestanden	20
Quote	77%

Name: Lösung

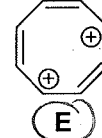
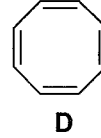
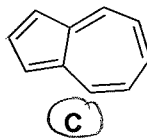
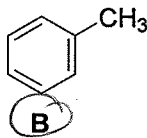
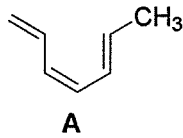
Matrikelnummer:

Vorlesung Organische Chemie 3, WS 2018/2019


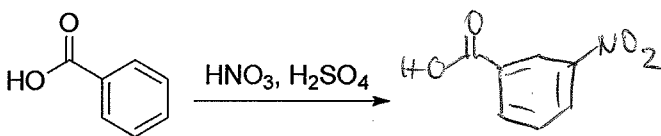
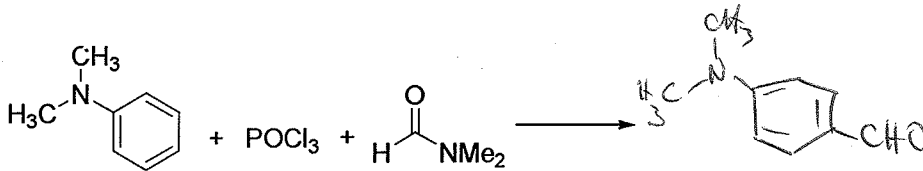
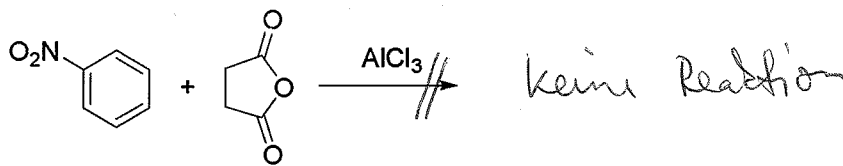
Prof. Dr. C. Christoph Tzschucke

Quickie Nr. 2: Aromaten

Aufgabe 1. Kennzeichnen Sie, welche der folgenden Verbindungen aromatisch sind:



Aufgabe 2. Geben Sie die Produkte der folgenden Reaktionen an. Kennzeichnen Sie eindeutig, falls keine Reaktion abläuft.



Name: Lösung

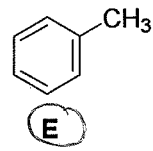
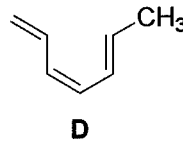
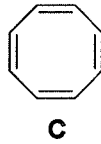
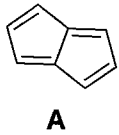
Matrikelnummer:

Vorlesung Organische Chemie 3, WS 2018/2019

Prof. Dr. C. Christoph Tzschucke

Quickie Nr. 2: Aromaten

Aufgabe 1. Kennzeichnen Sie, welche der folgenden Verbindungen aromatisch sind:



Aufgabe 2. Geben Sie die Produkte der folgenden Reaktionen an. Kennzeichnen Sie eindeutig, falls keine Reaktion abläuft.

