

Mat.Nr.	Quickie 2
*****99	1
*****59	1
*****09	1
*****88	1
*****58	1
*****38	1
*****08	1
*****07	0
*****66	1
*****16	1
*****95	0
*****75	1
*****25	1
*****84	1
*****54	1
*****14	1
*****23	1
*****92	1
*****42	1
*****32	1
*****12	1
*****11	1
*****80	0
*****70	1
*****50	1
*****00	1
***3*0	1
***2*0	1
***4*0	0

Teilnehmer 29  
bestanden 25  
Quote 86%

Name: Lösung

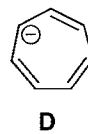
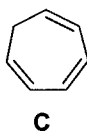
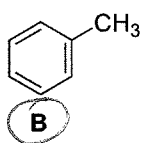
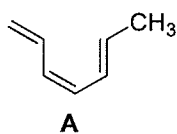
Matrikelnummer:

Vorlesung Organische Chemie 3, WS 2016/2017

Prof. Dr. C. Christoph Tzschucke

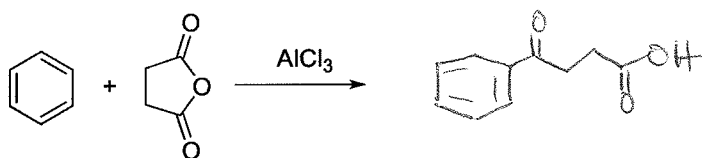
Quickie Nr. 2: Aromaten

Aufgabe 1. Kennzeichnen Sie, welche der folgenden Verbindungen aromatisch sind:

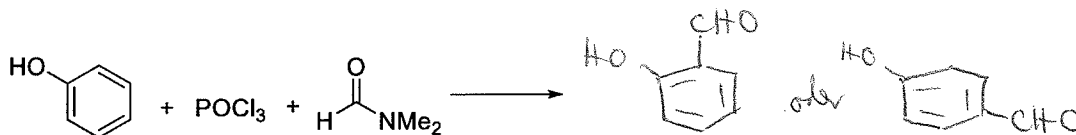


1P

Aufgabe 2. Geben Sie die Produkte der folgenden Reaktionen an. Kennzeichnen Sie eindeutig, falls keine Reaktion abläuft.



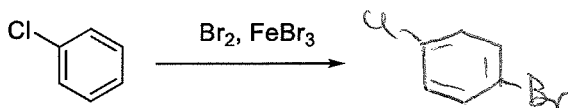
1P



1P



1P



1P

Name: Lösung

Matrikelnummer:

Vorlesung Organische Chemie 3, WS 2016/2017

Prof. Dr. C. Christoph Tzschucke

Quickie Nr. 2: Aromaten

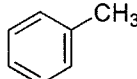
Aufgabe 1. Kennzeichnen Sie, welche der folgenden Verbindungen aromatisch sind:



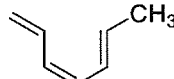
A



B



C



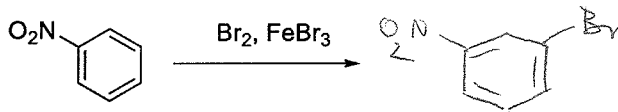
D



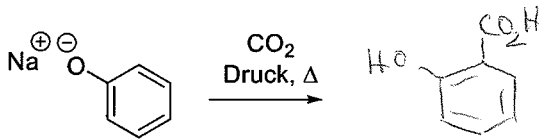
E

1P

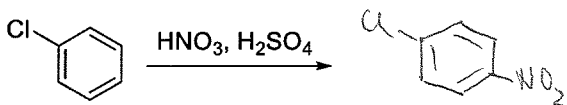
Aufgabe 2. Geben Sie die Produkte der folgenden Reaktionen an. Kennzeichnen Sie eindeutig, falls keine Reaktion abläuft.



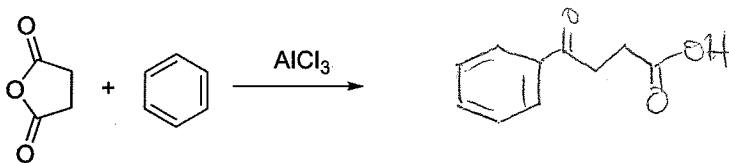
1P



1P



1P



1P