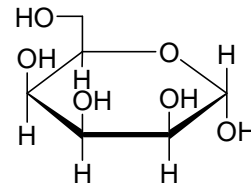
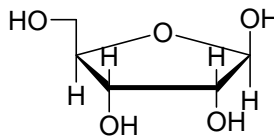
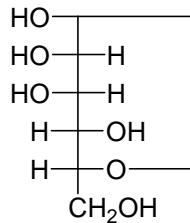


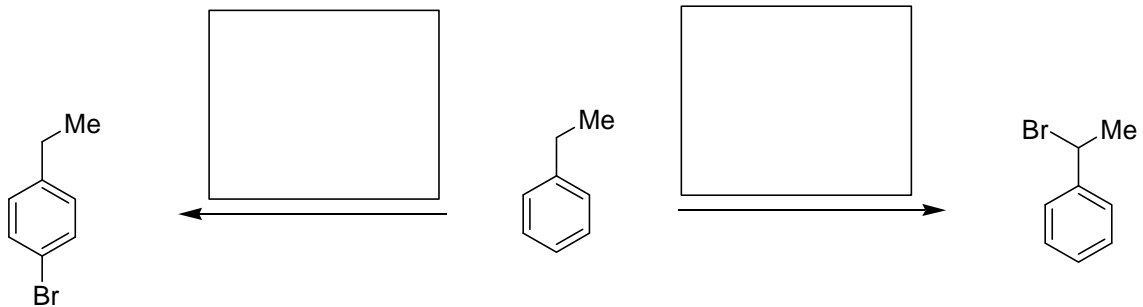
Übung Nr. 11

1. Geben Sie folgende Zucker jeweils in der Fischer-Schreibweise, in der Haworth- sowie in der Sesselkonformations-Darstellung an.



2. Geben Sie je eine aromatische Verbindung OHNE Heteroatom an, die jeweils aus einem 5-, einem 6-, einem 7- oder einem 8-Ring besteht.

3. Wie würden Sie folgende Reaktionen durchführen? Welche Nebenprodukte erwarten Sie in den jeweiligen Fällen?



Tip: Nutzen Sie die letzte Übungsstunde, um Fragen zur Vorlesung und zur Klausurvorbereitung zu stellen.